

## Тест по правилам дорожного движения (получение Learner Permit) в Нью-Йорке

Сайт отдела автотранспорта штата Нью-Йорк: New York State Department of Motor Vehicles - NYS DMV - NYSDMV - Driver – Vehicle:

<https://dmv.ny.gov/>

Список необходимых документов (всего необходимо набрать 6 очков):

<http://www.nysdmv.com/forms/id44.pdf>



1. Знак STOP (Стоп) - требует полной остановки, пропустить пешеходов и транспорт на перекрёстке, ехать только тогда, когда безопасно.



2. Знак YIELD (Уступи дорогу) - медленно достичь перекрёстка. Приготовиться к остановке. пропустить пешеходов и транспорт на перекрёстке. Ехать, когда безопасно. Полная остановка - если того требуют обстоятельства.



3. Знак RAILROAD CROSSING (Железно-дорожный переезд). Впереди железнодорожный переезд. Вы должны ехать внимательно и быть готовы к остановке.



4. Знак DO NOT ENTER (Одностороннее движение). Нет въезда.



5. Знак NO U-TURN (Разворот запрещён).



6. Знак NO LEFT TURN (Поворот налево запрещён).



7. Знак KEEP RIGHT OF DIVIDER (Держитесь вправо от разделителя).



8. Знак RIGHT LANE ENDS MERGE LEFT (Сужение правого края дороги).

---



9. Знак DIVIDED HIGHWAY ENDS (Конец деления экспресс-шоссе).

---



10. Знак TWO-WAY TRAFFIC (Двустороннее движение).

---



11. Знак HILL AHEAD (Впереди склон).

---



12. Знак SLIPPERY WHEN WET (Скользко, когда влажно).

---



13. Знак TRAFFIC SIGNAL AHEAD (Впереди дорожный светофор).

---



14. Знак MERGING TRAFFIC TERING FROM RIGHT (Справа в движение вливается дорога).

---



15. Знак SCHOOL CROSSING (Школьный переход).

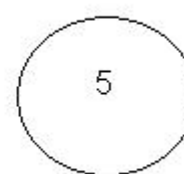
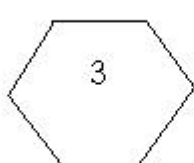
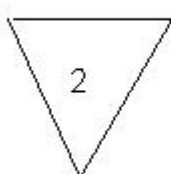
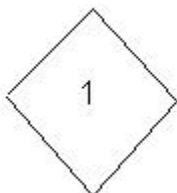
---



16. Знак HOSPITAL EMERGENCY TO THE RIGHT (Справа госпиталь).

---

### Тест по правилам дорожного движения (получение Learner Permit) в Нью-Йорк



1. Какая из приведённых фигур имеет форму знака "Уступи"?

2.

**2. Какая из приведённых фигур имеет форму регулирующего знака парковки?**

4.

**3. Что значит знак "Уступи"?**

Замедлись и будь готов остановиться, если нужно.

**4. Какая из предложенных фигур имеет форму знака остановки?**

3.

**5. Какая из приведённых фигур означает близкий железнодорожный переезд?**

5.

**6. Что означает сигнал "Не останавливаться"?**

Останавливаться можно только по приказу полицейского.

**7. Какого цвета сигнал "Не останавливаться"?**

Белые буквы по красному фону.

**8. Какая из приведённых фигур имеет форму знака, указывающего опасность, пример, крутой поворот или спуск?**

1.

**9. Что означает знак "Стоп"?**

Полностью остановиться и двигаться лишь когда безопасно.

**10. Какая из приведённых фигур имеет форму знака ограничения скорости?**

4.

**11. Какого цвета знак пункта назначения?**

Зелёно-белый.

**12. Что имеет преимущество над остальными тремя:**

- А) Сигнал "Стоп"
- Б) Постоянно красный цвет
- С) Мигающий красный цвет
- Д) Указания дорожного офицера / регулировщика

D.

**13. Что означает в штате Нью-Йорк, если школьный автобус остановился для высадки или посадки пассажиров и красные огни мигают?**

Двигаться нельзя ни в одну сторону.

**14. Что нужно сделать, приближаясь к перекрёстку с сигналом "Стоп"?**

Остановиться и проследовать, если это безопасно.

**15. Как нужно подготовиться к выполнению правого поворота?**

Начать как можно ближе к правому краю дороги.

**16. Какая главная разница между вождением на экспресс-шоссе (Highway) и обычным?**

Дозволенная скорость на экспресс-шоссе выше.

**17. Что означает прерывистая белая линия на шоссе?**

Её можно пересекать, если это не мешает движению.

**18. Что нужно сделать, подъезжая к переходу со знаком "Стоп" на нём?**

Остановиться перед переходом.

**19. какое из следующих является правилом "безопасного" вождения?**

Постоянно осматривайся. Следи за тем, что происходит вокруг.

**20. Что нужно сделать, выходя из машины, запаркованной на подъёме справа при наличии обочины?**

Повернуть передние колёса влево и установить парковочный тормоз.

**21. Что нужно сделать при выполнении поворота?**

Осмотреться и убедиться, что поворот безопасен.

**22. Каков эффект алкоголя и способность управлять машиной?**

Замедляет рефлексы и влияет на зрение и суждения.

**23. Когда можно пересечь двойную сплошную линию?**

Чтобы выехать / выехать из / на въездную дорогу.

**24. Что нужно сделать, поехав к месту аварии?**

Ехать дальше, если помощь уже оказывается.

**25. Обгоняя, как нужно оценивать время и пространство, чтобы успеть вернуться в свой ряд, прежде чем**

**встречная машина приблизится к вам?**

200 футов

**26. Что означает одна белая линия на шоссе?**

Пересекать только в случае необходимости.

**27. Для чего иногда устанавливается минимальная скорость?**

Обеспечить безопасность для движения.

**28. Что нужно сделать, желая повернуть влево, если горит зелёный сигнал, но поток встречного транспорта значительный?**

Подождать на перекрёстке, пока не прекратится встречное движение.

**29. Кто имеет право движения на перекрёстке без регулировки?**

Машина справа от вас.

**30. Когда слепой человек имеет право перехода?**

Когда имеет белую тросточку или сопровождается собакой-поводырем.

**31. Что нужно сделать, запарковавшись на ровном месте?**

Включить парковочные или аварийные тормоза.

**32. Как должен двигаться пешеход вдоль дороги без тротуара?**

Всегда на встречу движения.

**33. Что наиболее вероятно может вести машину в сторону, когда включаются тормоза?**

Тормоза не отрегулированы.

**34. Какое расстояние должно быть до гидранта при парковке?**

15 футов.

**35. Что обязан сделать водитель медленно идущей машины, например, трактора?**

Выполнять правила движения.

**36. Когда нужно уступить право движения приближающейся машине?**

Когда поворачиваете влево.

**37. Каков риск телесного повреждения с применением и без применения ремней?**

На 50 % больше без ремней.

**38. Что должен делать водитель, если шофёр стоящего школьного автобуса делает знаки проследовать?**

Проследовать осторожно.

**39. Что следует делать, если вас обгоняет машина?**

Слегка замедлить ход.

**40. Как далеко вперёд освещают дорогу фары?**

Около 250 футов.

**41. Что означает мигающий жёлтый сигнал светофора?**

Следовать с осторожностью.

**42. Когда вы имеете преимущественное право движения?**

Когда вы уже в круговом движении.

**43. Что означает сплошная белая линия на правой обочине дороги, которая сворачивает внутрь по диагонали?**

Шоссе становится уже.

**44. Что нужно сделать при густом тумане?**

Включить фары ближнего света.

**45. О какой аварии нужно сообщать в департамент автомобильного движения?**

Той, где есть смерть и ранения.

**46. Что нужно сделать, если на приближающемся перекрёстке светофор сменился с зелёного на жёлтый?**

Быть готовым остановиться, когда появится красный сигнал.

**47. Какое наиболее важное правило во всех опасных ситуациях?**

Подумать, прежде чем действовать.

**48. Когда преимущественное право движения имеет пешеход?**

Когда переходит по переходу при отсутствии светофора.

**49. Что нужно сделать на обычной дороге после съезда с экспресс-шоссе?**

Сверяйтесь со спидометром, пока не привыкните к меньшей скорости.

**50. Что нужно сделать, выезжая на главную дорогу с местной?**

Уступить право движения транспорту на главной дороге.

**51. Что означает иметь право преимущественного движения на перекрёстке?**

Можно ехать первым, если это безопасно.

**52. Когда абсолютно запрещено обгонять другую машину?**

Когда она пропускает пешеходов на переходе.

**53. Когда остановка, даже временная, всегда запрещена?**

На шоссейном мосту.

**54. Когда вы должны просигналить о намерении совершить поворот?**

Не менее 100 футов до поворота.

**55. Что вы должны сделать, когда другая машина начинает обгонять вас?**

Держаться как можно правее, не съезжая с проезжей части.

**56. Какое наибольшее расстояние от колёс до бровки при парковке?**

12 дюймов.

**57. При скорости в 40 миль/час сколько длин корпусов должно быть между вашей и впереди движущейся машиной?**

Не менее четырёх.

**58. Что нужно сделать при заносе машины на скользкой дороге?**

Легко рулить в сторону заноса без торможения.

**59. Что означает зелёная стрелка, указывающая нужное вам направление при красном сигнале светофора?**

Осторожно двигайтесь в направлении стрелки.

**60. Каково назначение ускорительной полосы на шоссе?**

Дать возможность набрать требуемую скорость до въезда на шоссе.

**61. Где парковка всегда запрещена?**

На переходе.

Re: Тест по правилам дорожного движения (получение Learner Permit) в Нью-Йорк

**62. Что нужно сделать сперва, прежде чем развернуться на узкой улице?**

Приблизиться ближе к правой кромке, подать сигнал остановки и остановиться.

**63. Что нужно сделать, когда на перекрёстке мигает красный сигнал?**

Полностью остановиться и проследовать, когда перекрёсток освободится.

**64. Перед каким транспортом машины неотложной помощи имеют преимущество?**

Перед всеми машинами.

**65. Если не указана высшая и низшая скорости, какая максимально разрешённая скорость в штате Нью-Йорк?**

55 миль/час

**66. Что нужно сделать на перекрёстке с мигающим жёлтым сигналом светофора?**

Замедлить и двигаться с осторожностью.

**67. Что нужно сделать, закончив манёвр задом при параллельной парковке между двумя машина?**

Выровнять передние колёса и оставить место между двумя машинами.

**68. Как глубоко должен быть протектор на шине?**

Не менее 2/32 дюйма.

**69. На улице или шоссе с двухсторонним движением, где вы должны находиться перед началом левого поворота?**

Левым колёса ближе к центральной линии.

**70. Почему ночное движение особенно опасно?**

Ваш способность видеть резко снижена.

**71. Что используется для направления водителя в соответствующую полосу на некоторых шоссе?**

Белые стрелки на полотне дороги.

**72. Что нужно делать, если перекрёсток имеет "СТОП" сигнал и нет линии остановки?**



Остановиться перед переходом.

**73. Что нужно сделать, прежде чем выйти из машины, запаркованной на правой стороне и при спуске без обочины?**

Повернуть передние колёса вправо и включить парковочные тормоза.

**74. Не позже какого срока вы обязаны письменно сообщить об аварии?**

10 дней.

**75. Что означает жёлтый мигающий сигнал?**

Двигаться с осторожностью.

**76. Левая рука направлена вверх. Что собирается сделать этот водитель?**

Повернуть влево.

**77. Какая скорость называется безопасной?**

В зависимости от погоды и дороги.

**78. Если лопнула шина, что наиболее безопасно?**

Крепко держать руль и сбавить газ.

**79. Что применяется для направления водителя в нужную сторону?**

Белые стрелки в центре полосы.

**80. Вы выезжаете на шоссе с короткой въездной полосой. Наиболее безопасным будет включиться в движение, проделав следующее:**

Дождаться большого разрыва в движении и быстро набрать скорость.

**81. Чем вождение на скоростной дороге отличается от вождения на обычной дороге?**

Вы должны привыкнуть к большой скорости движения.

**82. Машину начинает заносить на скользкой дороге. Что Вы должны делать?**

Рулить в сторону, куда заносит задок машины.

**83. Вы только что оставили шоссе и въехали на обычную дорогу. Что Вам следует сделать?**

Следить за спидометром, чтобы выдерживать меньший лимит скорости.

**84. Одно из правил "безопасного" движения состоит в?**

Знании того, что происходит вокруг.

**85. Что делает алкоголь с вашими суждениями и умениями?**

Поражает умения и суждения.

**86. При объявлении снежной опасности, что означает "снегоопасная улица"?**

машины должны иметь цепи и зимнюю резину.

**87. Какой вид имеет знак "Медленно движущаяся машина"?**

Треугольник оранжевого цвета.

**88. Вы движетесь по средней полосе трёхрядного шоссе. Вас начинают обгонять справа. Действия этого водителя считаются?**

правильными, если нет сигнала, запрещающего обгон справа.

**89. Если ваша тормозная педаль вдруг провалилась к полу?**

Попробуйте "покачать" педаль, чтобы восстановить давление в системе.

**90. Что вы должны сделать, выжидая на перекрёстке для левого поворота?**

Просигналить и держать колёса прямо.

**91. Что означает зелёная стрелка и красный сигнал светофора?**

Двигайтесь только по стрелке.

**92. Водитель, догоняющий велосипедиста, обязан?**

Быть особенно осторожным.

**93. Велосипедист отличается от водителя тем, что не обязан?**

Страховать своё транспортное средство.

**94. Водитель должен знать, что велосипедист поле захода солнца обязан иметь?**

Фару впереди и катафот сзади.

**95. Если лопнул шина, правильным будет?**

Крепко держать руль и ослабить газ.

**96. Вас начало заносить на скользкой дороге. Вы должны:**

Слегка рулить в сторону заноса.

**97. Вас начинают обгонять справа. Действия этого водителя считаются?**

Правильными, если нет сигнала, запрещающего обгон справа.

**98. Если ваши передние колёса заехали на мягкую обочину, что будет правильным сделать, чтобы вернуться на шоссе?**

Снять ногу с газа и легко рулить влево.

**99. Если вы припарковались параллельно кромке, можно начать движение?**

Если вы не мешаете приближающимся машинам.

**100. Чтобы ночью снизить слепящий эффект встречных машин следует?**

Смотреть на нижний правый сектор полосы.

**101. Ночью вождение опасно, так как?**

Уменьшается просматриваемое впереди расстояние.

**102. Одно из правил "безопасного" вождения требует:**

Быть на чеку и смотреть по сторонам.

**103. В какой из следующих ситуаций обгон всегда запрещён?**

Когда переход находится на переходе.

**104. В каком случае, как правило, можно обгонять машину, движущуюся в том же направлении, что и вы?**

Если Вы обгоняете слева.

**105. Какая машина должна уступить дорогу?**

Та, которая слева.

**106. Если вы только что съехали со скоростного шоссе на обычную дорогу, что вы должны делать?**

Проверять по спидометру свою скорость, чтобы привыкнуть к новому лимиту.

**107. Как влияет чашка кофе на содержание алкоголя в крови?**

Никак не влияет.

**108. Обязателен ли химический анализ крови для доказательства того, что вы управляли в состоянии алкогольного опьянения?**

Нет.

**109. Если вы будете признаны в связанном с алкоголем нарушении правил вождения, обязательно ли вас лишат прав?**

Да.

**110. Если вы задержаны в состоянии алкогольного опьянения вторично в течение 10 лет, вас могут?**

Посадить в тюрьму на 4 года.

**111. Какой процент содержания алкоголя в крови считается границей и началом стадии опьянения?**

0.1 %

**112. Достаточно ли показания полицейского для обвинения вас в алкогольном опьянении при вождении автомобиля?**

Да.

**113. Наказанием за вождение в состоянии алкогольного опьянения может быть:**

- A) До 1 года тюремного заключения
- B) Штраф \$ 3650 - \$ 500
- C) Лишение прав минимум на шесть месяцев
- D) Любое из вышеперечисленных

D.

**114. Что существенно понижает содержание алкоголя в крови?**

Время после выпивки.

**115. Причиной содержания 0.02 % алкоголя в крови могут быть:**

- A) Банка пива
- B) Бокал вина
- C) 1 oz. виски
- D) Любое из вышеперечисленных

D.

**116. Содержание алкоголя в крови зависит от:**

- A) Вида алкогольных напитков
- B) вашего самочувствия
- C) Насколько вы "устойчивы"
- D) Не зависит от данных факторов

D.

**117. В каком случае содержание алкоголя в крови может достичь 0.02 %, если вы выпили:**

- A) 1 oz. 80-ти градусного ликёра
- B) 4 oz. 24-ёх градусного вина
- C) 12 oz. пива
- D) Во всех перечисленных случаях

D.

**118. В штате Нью-Йорк вы можете быть арестованы, если содержания алкоголя в крови больше?**

0.1 % / 0.1 BAC

**119. Содержание алкоголя в крови / BAC / зависит от:**

- A) Как много вы выпили
- D) Период между выпивками
- C) Ваш вес
- D) Все факторы

D.

**120. За какой промежуток времени выводится из организма алкоголь после выпивки 1 банки пива.**

1 час.

**121. Как должен ехать велосипедист по дороге?**

По направлению движения.

**122. Когда вы меняете рядность движения, вы можете перестроиться вправо после?**

Когда посмотрите в зеркала, покажете сигнал поворота и посмотрите через правое плечо назад.

**123. Могут ли влиять на организм как наркотик:**

- A) Лекарство от простуды
- B) Лекарство от аллергии
- C) Желудочные лекарства
- D) Могут все перечисленные

D.

**124. Какой процент содержания алкоголя в крови считается нарушением?**

0.05 %